

ÉCOLE
SUPÉRIEURE
DE JOURNALISME
DE LILLE

CONCOURS 2019 FILIÈRE SPORT

N° DE CANDIDAT

SP019- _ _ _ _

APPRÉCIATION

100

ACTUALITÉ ET COMPRÉHENSION DU MONDE CONTEMPORAIN (1h30)

Cette épreuve notée sur un total de 100 points est composée de 6 chapitres.
La notation est précisée en début de chaque chapitre.

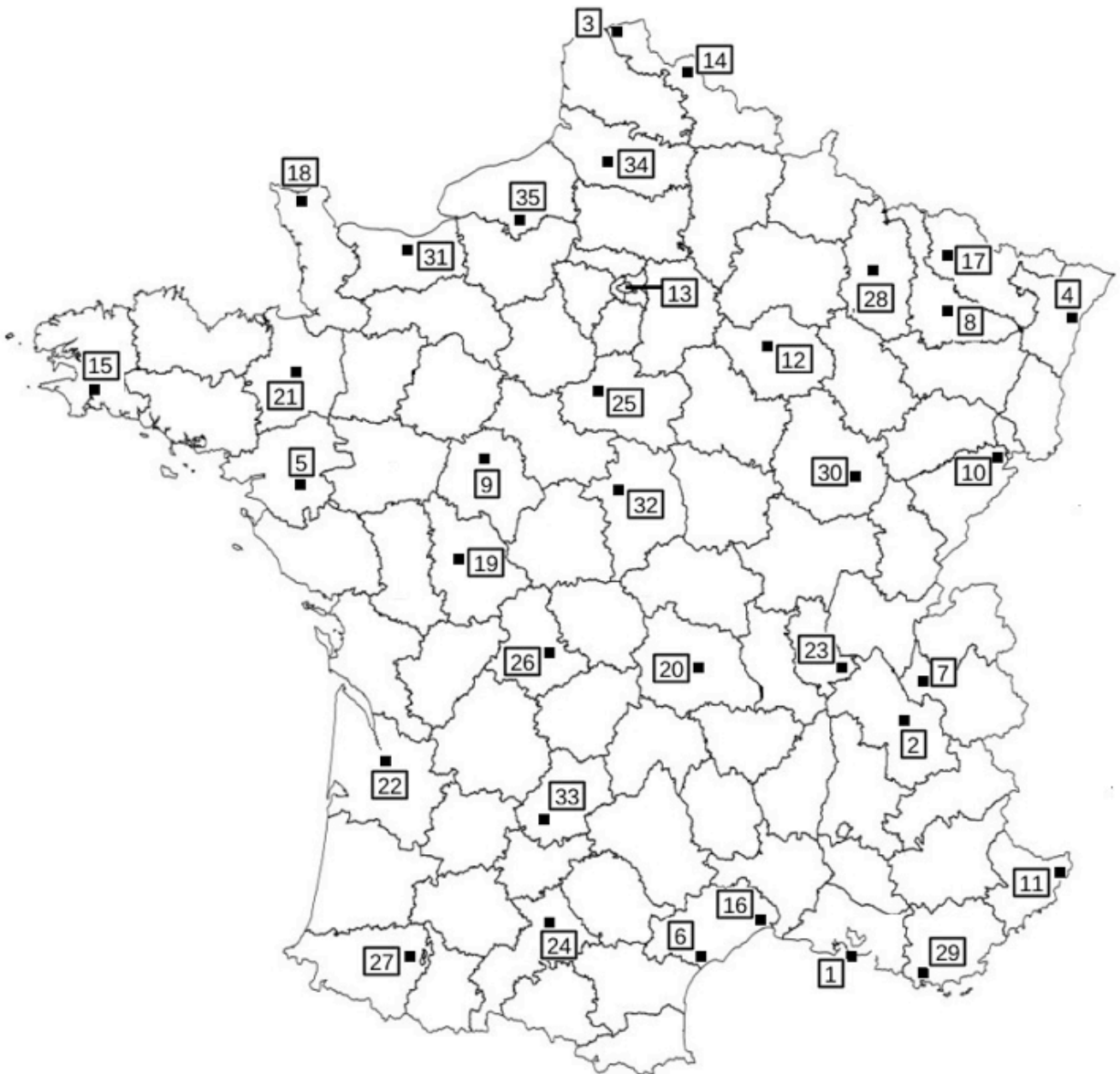
Nous attirons votre attention sur le fait que les questions ne demandent pas le même temps de composition et nous vous conseillons de d'abord prendre connaissance de l'ensemble de l'épreuve avant de commencer à composer.

CHAPITRE 2 - Carte de France

10 points, 0,5 point par ville bien positionnée

10

Vous devez, dans le tableau ci-contre, noter le numéro de la ville indiquée en vous servant de la carte jointe.



	Numéro	Point
METZ		
ORLEANS		
VILLEURBANNE		
GRAVELINES		
PAU		
TROYES		
TOULON		
MONTPELLIER		
BEZIERS		
TOURS		
CLERMONT		
SOCHAUX		
TOULOUSE		
POITIERS		
GRENOBLE		
DIJON		
LIMOGES		
NANCY		
NANTES		
CHAMBERY		
TOTAL POINTS		

CHAPITRE 3 - Sigles et acronymes

5 points, 0,5 point par question

5

Indiquez dans le cadre imparti la signification des sigles ou acronymes ci-dessous.

	Signification du sigle ou acronyme	Point
OMS		
CJR		
CSG		
ADP		
LBD		
ASN		
PNF		
CICR		
CPI		
IRA		
TOTAL POINTS		

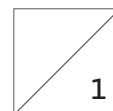
CHAPITRE 4 - Questions à réponses courtes

10 points, 1 point par question

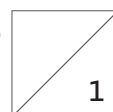
10

Vous devez répondre aux questions ci-dessous de manière courte et dans l'espace imparti.

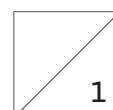
1 - Elle est décédée le 29 mars 2019, citez deux titres de film d'Agnès Varda.



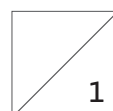
2 - Pianiste de jazz, musicien, chanteur, compositeur de la musique des Parapluies de Cherbourg et des Demoiselles de Rochefort, il est décédé en janvier dernier. Quel est son nom ?



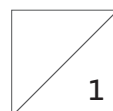
3 - Né au Burundi d'une mère rwandaise et d'un père français, il est auteur compositeur, rappeur, chanteur, écrivain, auteur de Petit Pays. Quel est son nom ?



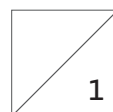
4 - Quel est ce type de corps céleste dont la première image réelle a été diffusée pour la première fois le 10 avril, grâce au travail d'un consortium international de scientifiques combinant les images de huit télescopes ?



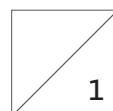
5 - Pollution atmosphérique : qu'est-ce qui différencie les PM10 et les PM2,5 ?



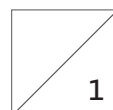
6 - Citez deux gaz, responsables de l'effet de serre sur Terre.



7 - Elections législatives en Espagne. Que pouvez-vous en dire ?



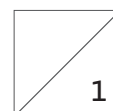
8 - Qu'est-ce que le chlordécone ?



9 - Pour quelle raison des personnalités appellent au boycott de neuf grands hôtels dans le monde appartenant au Sultan de Brunei ?



10 - Deepfake ?

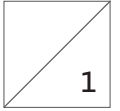


CHAPITRE 5 - Qui sont-ils ?

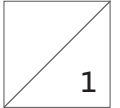
20 points, 1 point par question

20

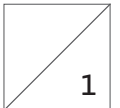
Monseigneur Aupetit



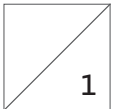
Volodymyr Zelensky



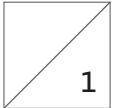
Elisabeth Borne



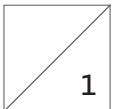
Raoul Taburin



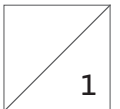
Nicolas Mathieu



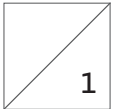
Xavier Bertrand



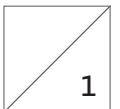
Bernard Preynat



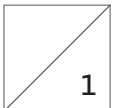
Jean-Claude Romand



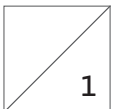
Joe Biden



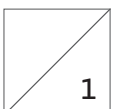
Michel Barnier



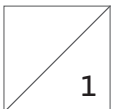
Laurent Gbagbo



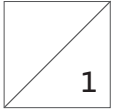
Alain Weill



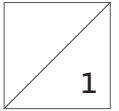
Julian Assange



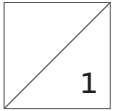
Omar el-Béchir



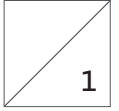
Macky Sall



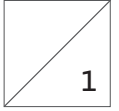
Alexandria Ocasio-Cortez



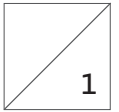
Stéphanie Frappart



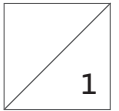
Jacinda Ardern



Sophie Pétronin



Fred Vargas



CHAPITRE 6 - Elections européennes

20 points

15

1- Remplir le tableau ci-dessous dans lequel vous devez donner le nom de la tête de liste déclarée pour les prochaines élections européennes. [sur 5 points 0,5 point par réponse]

5

	Nom et prénom	Point
Les Patriotes		
UDI		
Debout la France		
LR		
EELV		
Parti communiste		
France insoumise		
Union populaire républicaine		
Place publique		
RN		
TOTAL POINTS		

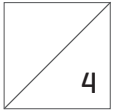
2 - Citez les noms de trois partis au Parlement européen.

2

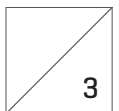
3 - Quelle est la date des élections européennes en France ?

1

4 - Que pouvez-vous dire des résultats des dernières élections européennes en France ? [Année, abstention, résultats, commentaires...]



5 - Dans la liste ci-dessous, trouvez trois pays n'appartenant pas à l'Union européenne...



Albanie, Bulgarie, Chypre, Croatie, Danemark, Estonie, Finlande, Islande, Lituanie, Lettonie, Malte, Norvège, Pologne, Roumanie, Slovaquie, Slovénie, Suède.
